

Часть 1

Ответом к заданиям 1–17 является цифра или последовательность цифр (чисел). Ответы сначала укажите в тексте работы, а затем перенесите в БЛАНК ОТВЕТОВ № 1 справа от номера соответствующего задания, начиная с первой клеточки, без пробелов, запятых и других дополнительных символов. Каждую цифру пишите в отдельной клеточке в соответствии с приведёнными в бланке образцами. Цифры в ответах на задания 4, 9, 10, 12, 15, 17 могут повторяться.

1 Выберите два высказывания, в которых говорится о железе как химическом элементе.

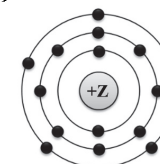
- 1) Железо реагирует с хлором.
- 2) Железо быстро ржавеет во влажном воздухе.
- 3) Пирит является сырьём для получения железа.
- 4) Гемоглобин, содержащий железо, переносит кислород.
- 5) В состав ржавчины входит железо.

Запишите номера выбранных ответов.

Ответ:

--	--

2 На приведённом рисунке изображена модель атома химического элемента.



Запишите в таблицу величину заряда ядра (X) атома химического элемента, модель которого изображена на рисунке, и номер группы (Y), в которой этот элемент расположен в Периодической системе. (Для записи ответа используйте арабские цифры.)

Ответ:

X	Y

3

Расположите химические элементы

1) сера 2) хлор 3) фосфор

в порядке увеличения их электроотрицательности.

Запишите номера элементов в соответствующем порядке.

Ответ:

--	--	--

4

Установите соответствие между формулой соединения и степенью окисления азота в этом соединении: к каждой позиции, обозначенной буквой, подберите соответствующую позицию, обозначенную цифрой.

ФОРМУЛА СОЕДИНЕНИЯ	СТЕПЕНЬ ОКИСЛЕНИЯ АЗОТА
A) HNO_3	1) +1
B) N_2O	2) -3
B) NH_3	3) +3
	4) +5

Запишите в таблицу выбранные цифры под соответствующими буквами.

Ответ:

А	Б	В

5

Из предложенного перечня выберите два вещества с ионной связью.

- 1) CaO
- 2) PCl_3
- 3) Br_2
- 4) Li_3N
- 5) H_2S

Запишите номера выбранных ответов.

Ответ:

--	--

6

Какие два утверждения верны для характеристики как магния, так и кремния?

- 1) Электроны в атоме расположены на трёх электронных слоях.
- 2) Соответствующее простое вещество существует в виде двухатомных молекул.
- 3) Химический элемент относится к металлам.
- 4) Значение электроотрицательности меньше, чем у фосфора.
- 5) Химический элемент образует высшие оксиды с общей формулой ЭO_2 .

Запишите номера выбранных ответов.

Ответ:

--	--

7

Из предложенного перечня веществ выберите кислотный оксид и основание.

- 1) CO
- 2) $\text{Mg}(\text{OH})_2$
- 3) SO_2
- 4) NaClO_4
- 5) $\text{Al}(\text{OH})_3$

Запишите в поле ответа сначала номер кислотного оксида, а затем номер основания.

Ответ:

--	--

8

Какие два вещества из предложенного перечня вступают в реакцию с оксидом алюминия?

- 1) $\text{Cu}(\text{OH})_2$
- 2) HNO_3
- 3) O_2
- 4) $\text{Be}(\text{OH})_2$
- 5) Na_2O

Запишите номера выбранных ответов.

Ответ:

--	--

9 Установите соответствие между реагирующими веществами и продуктом(-ами) их взаимодействия: к каждой позиции, обозначенной буквой, подберите соответствующую позицию, обозначенную цифрой.

РЕАГИРУЮЩИЕ
ВЕЩЕСТВА

- A) $\text{MgO} + \text{SO}_3 \rightarrow$
Б) $\text{Mg}(\text{OH})_2 + \text{H}_2\text{SO}_4 \rightarrow$
В) $\text{Mg} + \text{H}_2\text{SO}_4(\text{разб.}) \rightarrow$

ПРОДУКТ(Ы)
ВЗАИМОДЕЙСТВИЯ

- 1) $\rightarrow \text{MgSO}_3 + \text{H}_2$
2) $\rightarrow \text{MgSO}_4 + \text{H}_2\text{O}$
3) $\rightarrow \text{MgSO}_3$
4) $\rightarrow \text{MgSO}_4 + \text{H}_2$
5) $\rightarrow \text{MgSO}_4$

Запишите в таблицу выбранные цифры под соответствующими буквами.

Ответ:

А	Б	В

10 Установите соответствие между веществом и реагентами, с которыми это вещество может вступать в реакцию: к каждой позиции, обозначенной буквой, подберите соответствующую позицию, обозначенную цифрой.

ВЕЩЕСТВО

- A) С
Б) Al_2O_3
В) CuCl_2

РЕАГЕНТЫ

- 1) $\text{O}_2, \text{H}_2\text{SO}_4$ (конц.)
2) Mg, AgNO_3 (р-р)
3) KOH (р-р), HCl (р-р)
4) $\text{N}_2, \text{K}_2\text{SO}_4$ (р-р)

Запишите в таблицу выбранные цифры под соответствующими буквами.

Ответ:

А	Б	В

11 Из предложенного перечня выберите две пары веществ, между которыми протекает реакция замещения.

- 1) железо и нитрат серебра
- 2) оксид серы(VI) и оксид железа(III)
- 3) оксид меди(II) и соляная кислота
- 4) алюминий и хлор
- 5) натрий и вода

Запишите номера выбранных ответов.

Ответ:

--	--

12 Установите соответствие между реагирующими веществами и признаком протекающей между ними реакции: к каждой позиции, обозначенной буквой, подберите соответствующую позицию, обозначенную цифрой.

РЕАГИРУЮЩИЕ ВЕЩЕСТВА

- A) FeCl_3 (р-р) и NaOH (р-р)
Б) FeSO_4 (р-р) и $\text{Ba}(\text{NO}_3)_2$ (р-р)
В) FeS и H_2SO_4 (р-р)

ПРИЗНАК РЕАКЦИИ

- 1) выпадение белого осадка
- 2) выпадение бурого осадка
- 3) выпадение серо-зелёного осадка
- 4) выделение газа

Запишите в таблицу выбранные цифры под соответствующими буквами.

Ответ:

А	Б	В

13 Выберите два вещества, при полной диссоциации 1 моль которых образуется 2 моль анионов.

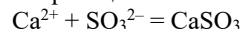
- 1) нитрат магния
- 2) гидроксид бария
- 3) хлорид натрия
- 4) фосфат калия
- 5) сульфат натрия

Запишите номера выбранных ответов.

Ответ:

--	--

14 Выберите два исходных вещества, взаимодействию которых соответствует сокращённое ионное уравнение реакции



- 1) CaO
- 2) Ca
- 3) CaCl₂
- 4) K₂SO₃
- 5) H₂SO₃
- 6) SO₂

Запишите номера выбранных ответов.

Ответ:

--	--

15 Установите соответствие между схемой процесса, происходящего в окислительно-восстановительной реакции, и названием этого процесса: к каждой позиции, обозначенной буквой, подберите соответствующую позицию, обозначенную цифрой.

СХЕМА ПРОЦЕССА	НАЗВАНИЕ ПРОЦЕССА
A) $\text{S}^{-2} \rightarrow \text{S}^0$	1) окисление
Б) $\text{H}_2^0 \rightarrow 2\text{H}^+$	2) восстановление
В) $\text{Cr}^{+6} \rightarrow \text{Cr}^{+3}$	

Запишите в таблицу выбранные цифры под соответствующими буквами.

Ответ:

А	Б	В

16 Из перечисленных суждений о правилах работы с веществами в лаборатории и быту выберите верное(-ые) суждение(-я).

- 1) Хлор можно получать только в вытяжном шкафу.
- 2) При приготовлении раствора кислоты концентрированную серную кислоту приливают к воде.
- 3) При нагревании раствора пробирку с жидкостью держат строго вертикально.
- 4) Работу с едкими веществами следует проводить в резиновых перчатках.

Запишите в поле ответа номер(а) верного(-ых) суждения(-й).

Ответ: _____.

17 Установите соответствие между двумя веществами и реактивом, с помощью которого можно различить эти вещества: к каждой позиции, обозначенной буквой, подберите соответствующую позицию, обозначенную цифрой.

ВЕЩЕСТВА	РЕАКТИВ
A) KCl и K ₂ SiO ₃	1) NH ₄ NO ₃
Б) K ₂ CO ₃ и Li ₂ CO ₃	2) HCl
В) Na ₂ SO ₄ и NaOH	3) MgO
	4) K ₃ PO ₄

Запишите в таблицу выбранные цифры под соответствующими буквами.

Ответ:

А	Б	В

Ответом к заданиям 18, 19 является целое число или конечная десятичная дробь. Ответы сначала укажите в тексте работы, а затем перенесите в БЛАНК ОТВЕТОВ № 1 справа от номера соответствующего задания, начиная с первой клеточки. Каждый символ пишите в отдельной клеточке в соответствии с приведёнными в бланке образцами. Единицы измерения физических величин в бланке ответа указывать не нужно.

Задания 18 и 19 выполняются с использованием следующего текста.

Нитрат аммония (аммиачная селитра) – химическое соединение NH_4NO_3 , соль азотной кислоты, которое используется в качестве азотного удобрения.

- 18 Вычислите в процентах массовую долю азота в нитрате аммония. Запишите число с точностью до целых.

Ответ: _____ %.

- 19 При подкормках овощных и цветочных культур в почву вносится 200 г азота на 100 м^2 . Вычислите, сколько граммов аммиачной селитры надо внести на земельный участок площадью 70 м^2 . Запишите число с точностью до целых.

Ответ: _____ г.



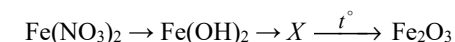
Не забудьте перенести все ответы в бланк ответов № 1 в соответствии с инструкцией по выполнению работы. Проверьте, чтобы каждый ответ был записан в строке с номером соответствующего задания.

Часть 2

Для ответов на задания 20–22 используйте БЛАНК ОТВЕТОВ № 2. Запишите сначала номер задания (20, 21 или 22), а затем развёрнутый ответ к нему. Ответы записывайте чётко и разборчиво.

- 20 Используя метод электронного баланса, расставьте коэффициенты в уравнении реакции, схема которой
- $$\text{MnO}_2 + \text{HBr} \rightarrow \text{MnBr}_2 + \text{Br}_2 + \text{H}_2\text{O}$$
- Определите окислитель и восстановитель.

- 21 Дана схема превращений:



Напишите молекулярные уравнения реакций, с помощью которых можно осуществить указанные превращения. Для первого превращения составьте сокращённое ионное уравнение реакции.

- 22 После пропускания через раствор гидроксида натрия 2,24 л сернистого газа (н.у.) получили 252 г раствора сульфита натрия. Вычислите массовую долю соли в полученном растворе.



Проверьте, чтобы каждый ответ был записан рядом с номером соответствующего задания.

Практическая часть

Прочитайте текст и выполните задания 23 и 24.

Для ответа на задание 23 используйте БЛАНК ОТВЕТОВ № 2. Запишите сначала номер задания (23), а затем развёрнутый ответ к нему. Ответ записывайте чётко и разборчиво.

Задание 24 выполняйте только под наблюдением экспертов. При выполнении задания 24 или сразу после выполнения можно делать записи в черновике, после чего нужно вернуться к выполнению других заданий экзаменационной работы до момента окончания экзамена.

Дан раствор сульфата магния, а также набор следующих реактивов: цинк; соляная кислота; растворы гидроксида натрия, хлорида бария и нитрата калия.

- 23** Используя только реактивы из приведённого перечня, запишите молекулярные уравнения двух реакций, которые характеризуют химические свойства сульфата магния, и укажите признаки их протекания (наличие/отсутствие запаха у газа, цвет осадка или раствора).

Ознакомьтесь с инструкцией по выполнению задания 24, прилагаемой к заданиям КИМ.

Сообщите организатору в аудитории о своей готовности приступить к выполнению задания 24.

Подготовьте лабораторное оборудование, необходимое для проведения эксперимента.

- 24** Проведите химические реакции между сульфатом магния и выбранными веществами в соответствии с составленными уравнениями реакции, соблюдая правила техники безопасности, приведённые в инструкции к заданию. Проверьте, правильно ли указаны в ответе на задание 23 признаки протекания реакций. При необходимости дополните ответ или скорректируйте его.